

Date : _____

Lecture de l'heure

1 Entoure les horaires qui correspondent à l'horloge.



12 heures


neuf heures

3 heures


9 heures

midi


2 Complète avec la ou les aiguilles qui manquent.



Il est 10 heures.



Il est 4 heures.



Il est 7 heures.

Solides et assemblages

3



• Quel est le nom du solide photographié ?

C'est

• Combien de faces a-t-il ? Il a faces.

• Quelle est la forme de ses faces ?

Ses faces sont des

4



Décris l'assemblage photographié pour qu'un camarade puisse réaliser le même assemblage.

.....

.....

.....

.....

.....